

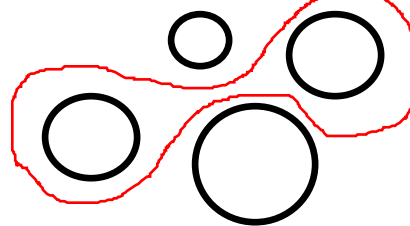
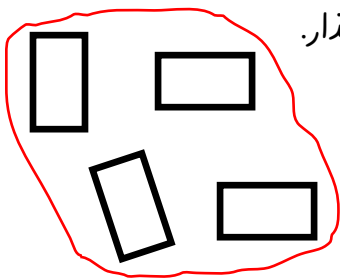
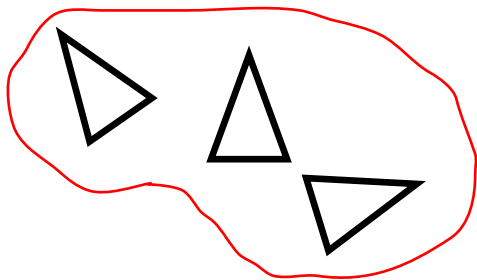
به نام خدا

ارزشیابی ریاضی کلاس اول

نام و نام خانوادگی :

WWW.DORDO.IR

۱- شکل های مثل هم را داخل خط بسته بگذار.



۲- گل های ست راست خانه را رنگ کن.




۳- دختری را که به سمت چپ می رود رنگ کن.




سمت چپ




۴- عدد هر دسته را بنویس.




۴



۷





۵

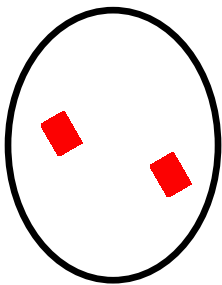


۲


۵- همان اندازه که گل می بینی از سیب ها رنگ کن.




۶- برای هر عدد شکل مناسب بکش.




۲



۸



۶




۳


۷- جدول شگفت انگیز را کامل کن.

۲	۱	۳	۵	۴
۳	۲	۵	۴	۱
۴	۳	۲	۱	۵
۵	۴	۱	۲	۳
۱	۵	۴	۳	۲


۸- دور عدد مناسب خط بکش.



۵ - ۶ - ۷





۲ - ۳ - ۴

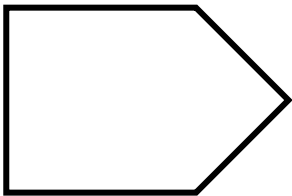


۶ - ۷ - ۸

۹- در جای خالی عدد مناسب بنویس.



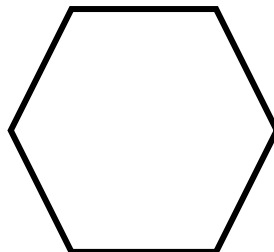
۱۰- هر شکل چند گوشه دارد؟ عدد آن را بنویس.




۵



۴



۶




۳


۱۱- الگو را ادامه بده.




۱۲- عدد هر دسته را بنویس و شکل های دسته ی بیشتر را رنگ کن.




۶



۵

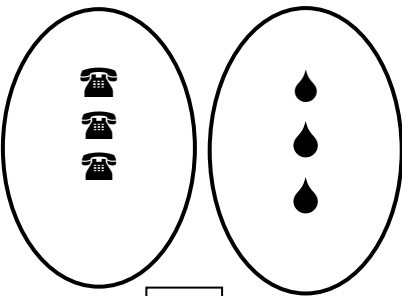


۶

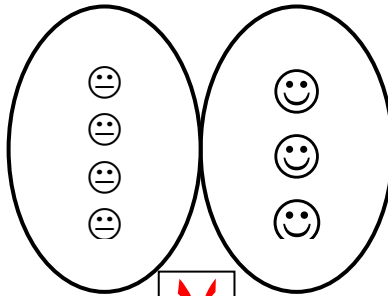


۴

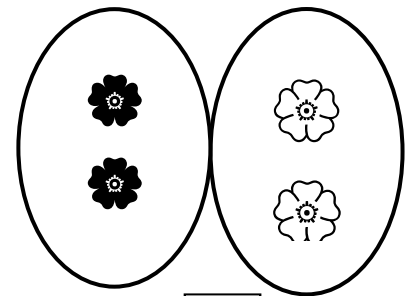
۱۳- شکل های هر دو دسته روی هم چندتا می شوند؟ با عدد نشان بده.



۶




۷




۴

۱۴- ششین شکل از ست راست را رنگ کن.



باز خورد آموزگار :



خوب

خیلی خوب

نیاز به تلاش

قابل قبول

